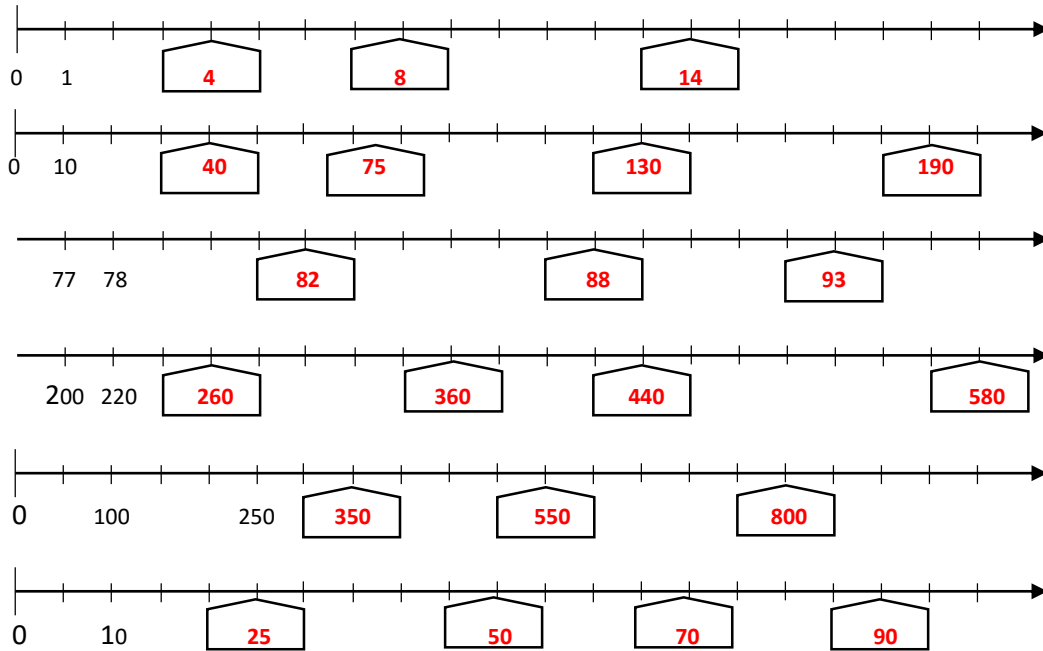
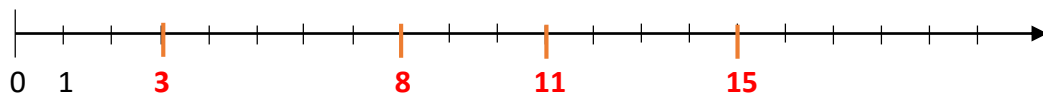


ÜBUNGEN ZUM ZAHLENSTRAHL

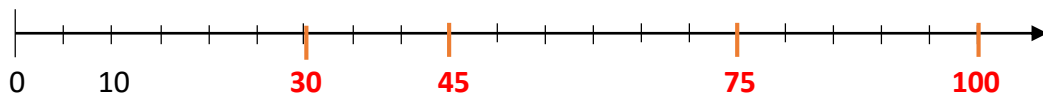
1. Welche Zahlen sind auf dem Zahlenstrahl dargestellt?



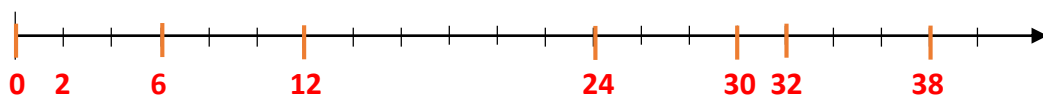
2. Trage die folgenden Zahlen in den Zahlenstrahl ein: 3; 8; 11; 15;



3. Trage die folgenden Zahlen in den Zahlenstrahl ein: 30; 45; 75; 100;



4. Trage die folgenden Zahlen in den Zahlenstrahl ein. Lege zuerst die Einheitsstrecke fest: 0; 6; 12; 24; 30; 32; 38



5. Trage die folgenden Zahlen in den Zahlenstrahl ein. Lege zuerst den Beginn und die Einheitsstrecke fest: 220; 230; 280; 320; 370; 345;

