


- 9 Nimm 4 2 8 6 10 12 Halbkreise.
Wie viele ganze Kreise kannst du daraus legen?




- 10 Wie viele Halbe sind: 2 6 5 4 3 7 9 10 8 Ganze?
Lege zuerst und schreibe dann die Brüche auf!


- 11 Jakob hat 8 Nüsse. Er halbiert sie vorsichtig.
Wie viele Nusschalenschiffe kann er basteln?




- 12 Die Mutter halbiert 6 hart gekochte Eier.
Wie viele halbe Eier legt sie auf den Teller?



- 13 In einem Restaurant werden 14 halbe Brathühner verkauft.
Wie viele ganze Hühner wurden gebraten?



- 14 Die Mutter presst Orangen aus. 18 ausgepresste Orangenhälften liegen im Mistkübel.
Wie viele Orangen hat sie ausgepresst?




- 15 Wie viele Ganz sind:

$$\frac{4}{2} = \frac{6}{2} = \frac{2}{2} = \frac{8}{2} = \frac{10}{2} = \frac{20}{2} = \frac{16}{2} = \frac{12}{2} = \frac{18}{2} = \frac{14}{2} =$$


- 16 Nimm 1 2 3 4 5 ... Papierscheibe(n) und schneide sie in Viertel!

- 17 Nimm 12 8 16 29 4 ... Viertelkreise!
Wie viele ganze Kreise kannst du daraus legen?



$$\frac{12}{4} =$$

- 18 Für das Apfelkompott viertelt Frau Gruber 13 Äpfel.
Wie viele Viertel erhält sie?



- 19 Wie viele Viertel sind: 2 4 1 3 6 8 5 Ganze?