






20 In der Kühltruhe liegen **16 Viertelkilopakete** Butter. Wie viele Kilogramm sind das?




Auf dem Wandertag trinken **12 Kinder** je einen **Viertelliter** Milch. Wie viel Liter wurden insgesamt getrunken?

22 Die Marktfrau füllt Heidelbeeren in **Viertelkilokörbe**. Sie verkauft **40 Körbe**. Wie viele Kilo hat sie verkauft?



23 Wie viele Ganze sind:

$\frac{8}{4}$     $\frac{16}{4}$     $\frac{12}{4}$     $\frac{4}{4}$     $\frac{20}{4}$     $\frac{28}{4}$     $\frac{40}{4}$     $\frac{24}{4}$



Wie viele Achtel sind:

3 4 1 5 6 8 2 7 10 9 Ganze?

25 In der Konditorei werden **sechs Torten** in je **8 Teile** geteilt. Wie viele Tortenstücke sind das?



26 Für eine Bastelararbeit werden **Achtelkreise** benötigt. Peter zerschneidet **5 Kreise**. Wie viele Achtel hat er dann?



27

Wie viele Ganze sind?

$\frac{8}{8}$  =  $\frac{16}{8}$     $\frac{8}{8}$     $\frac{32}{8}$     $\frac{64}{8}$     $\frac{40}{8}$     $\frac{24}{8}$     $\frac{72}{8}$     $\frac{56}{8}$     $\frac{48}{8}$     $\frac{80}{8}$

28 In einem Geschäft werden  $\frac{32}{8}$  kg Kaffee verkauft. Wie viele Kilogramm sind das?



An einem Erfrischungsstand werden  $\frac{48}{8}$  l Fruchtsaft verkauft. Wie viel Liter sind das?

30 In einem Milchgeschäft werden **56 Achtelkilopakete** Butter verkauft. Wie viele Kilogramm sind das?

